

Основной государственный экзамен по МАТЕМАТИКЕ

Тренировочный вариант № 10

Инструкция по выполнению работы

Экзаменационная работа состоит из двух частей, включающих в себя 26 заданий. Часть 1 содержит 20 заданий, часть 2 содержит 6 заданий с развёрнутым ответом. На выполнение экзаменационной работы по математике отводится 3 часа 55 минут (235 минут).

Ответы к заданиям 7 и 15 запишите в бланк ответов № 1 в виде одной цифры, которая соответствует номеру правильного ответа.

Для остальных заданий части 1 ответом является число или последовательность цифр. Ответ запишите в поле ответа в тексте работы, а затем перенесите в бланк ответов № 1. Если получилась обыкновенная дробь, ответ запишите в виде десятичной. Решения заданий части 2 и ответы к ним запишите на бланке ответов № 2. Задания можно выполнять в любом порядке. Текст задания переписывать не надо, необходимо только указать его номер. Все бланки заполняются яркими чёрными чернилами. Допускается использование гелевой или капиллярной ручки.

Сначала выполняйте задания части 1. Начать советуем с тех заданий, которые вызывают у Вас меньше затруднений, затем переходите к другим заданиям. Для экономии времени пропускайте задание, которое не удаётся выполнить сразу, и переходите к следующему. Если у Вас останется время, Вы сможете вернуться к пропущенным заданиям. При выполнении части 1 все необходимые вычисления, преобразования выполняйте в черновике.

Если задание содержит рисунок, то на нём непосредственно в тексте работы можно выполнять необходимые Вам построения. Рекомендуем внимательно читать условие и проводить проверку полученного ответа. При выполнении работы Вы можете воспользоваться справочными материалами, выданными вместе с вариантом КИМ, и линейкой. Баллы, полученные Вами за выполненные задания, суммируются. Постарайтесь выполнить как можно больше заданий и набрать наибольшее количество баллов.

Для прохождения аттестационного порога необходимо набрать не менее 8 баллов, из которых не менее 2 баллов должны быть получены за решение заданий по геометрии (задания 16–20, 24–26).

После завершения работы проверьте, чтобы ответ на каждое задание в бланках ответов № 1 и № 2 был записан под правильным номером.

Желаем успеха!

Часть 1

Прочитайте внимательно текст и выполните задание 1-5.

Класс на начало годового срока страхования	Коэффициент КБМ	Класс по окончании годового срока страхования с учётом наличия страховых случаев				
		0 страховых выплат	1 страховая выплата	2 страховых выплаты	3 страховых выплаты	4 страховых выплаты
М	2,45	0	М	М	М	М
0	2,3	1	М	М	М	М
1	1,55	2	М	М	М	М
2	1,4	3	1	М	М	М
3	1	4	1	М	М	М
4	0,95	5	2	1	М	М
5	0,9	6	3	1	М	М
6	0,85	7	4	2	М	М
7	0,8	8	4	2	М	М
8	0,75	9	5	2	М	М
9	0,7	10	5	2	1	М
10	0,65	11	6	3	1	М
11	0,6	12	6	3	1	М
12	0,55	13	6	3	1	М
13	0,5	13	7	3	1	М

Каждый водитель в Российской Федерации должен быть застрахован по программе обязательного страхования гражданской ответственности (ОСАГО). Стоимость полиса получается умножением базового тарифа на несколько коэффициентов. Коэффициенты зависят от водительского стажа мощности автомобиля количества предыдущих страховых выплат и других факторов.

Коэффициент бонус-малус (КБМ) зависит от класса водителя. Это коэффициент, понижающий или повышающий стоимость полиса в

зависимости от количества ДТП в предыдущий год. Сначала водителю присваивается класс 3. Срок действия полиса как правило, один год. Каждый последующий год класс водителя рассчитывается в зависимости от числа страховых выплат в течение истекшего года, в соответствии со следующей таблицей.

1. Павел страховал свою гражданскую ответственность три года. В течение первого года были сделаны две страховые выплаты после этого выплат не было. Какой класс будет присвоен Павлу на начало четвёртого года страхования?

Ответ: _____

2. Чему равен КБМ на начало четвёртого года страхования?

Ответ: _____

3. Коэффициент возраста и водительского стажа (КВС) также влияет на стоимость полиса (см. таблицу).

Стаж, лет \ Возраст, лет	0	1	2	3–4	5–6	7–9	10–14	более 14
16–21	1,87	1,87	1,87	1,66	1,66			
22–24	1,77	1,77	1,77	1,04	1,04	1,04		
25–29	1,77	1,69	1,63	1,04	1,04	1,04	1,01	
30–34	1,63	1,63	1,63	1,04	1,04	1,01	0,96	0,96
35–39	1,63	1,63	1,63	0,99	0,96	0,96	0,96	0,96
40–49	1,63	1,63	1,63	0,96	0,96	0,96	0,96	0,96
50–59	1,63	1,63	1,63	0,96	0,96	0,96	0,96	0,96
старше 59	1,60	1,60	1,60	0,93	0,93	0,93	0,93	0,93

Когда Павел получил водительские права и впервые оформил полис ему было 24 года. Чему равен КВС на начало 4 - го года страхования?

Ответ: _____

4. В начале третьего года страхования Павел заплатил за полис 18 745 руб. Во сколько рублей обойдётся Павлу полис на четвёртый год, если значения других коэффициентов (кроме КБМ и КВС) не изменятся?

Ответ: _____

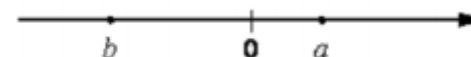
5. Павел въехал на участок дороги протяжённостью 2,7 км с камерами, отслеживающими среднюю скорость движения. Ограничение скорости на дороге – 60 км/ч. В начале и в конце участка установлены камеры, фиксирующие номер автомобиля и время проезда. По этим данным компьютер вычисляет среднюю скорость на участке. Павел въехал на участок в 11:03:16, а покинул его в 11:05:31. Нарушил ли Павел скоростной режим? Если да, на сколько км/ч средняя скорость на данном участке была выше разрешённой?

Ответ: _____

6. Найдите значение выражения $5,4 \cdot 0,8 + 0,08$

Ответ: _____

7. На координатной прямой отмечены числа. Какое из следующих утверждений верно?



1) $a < b$ и $|a| < |b|$ 2) $a < b$ и $|a| > |b|$

3) $a > b$ и $|a| > |b|$ 4) $a > b$ и $|a| < |b|$

Ответ: _____

8. Найдите значение выражения $\sqrt{(-20)^2} - \sqrt{(-5)^2}$

Ответ: _____

9. Решите уравнение $7 + 8x = -2x - 5$

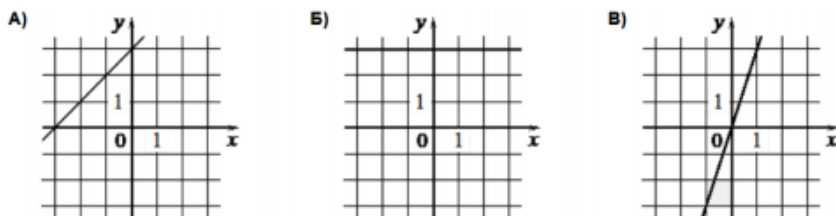
Ответ: _____

10. Родительский комитет закупил 10 пазлов для подарков детям в связи с окончанием учебного года, из них 2 с машинами и 8 с видами городов. Подарки распределяются случайным образом между 10 детьми, среди которых есть Андрюша. Найдите вероятность того, что Андрюше достанется пазл с машиной.

Ответ: _____

11. Установите соответствие между графиками функций и формулами, которые их задают.

ГРАФИКИ



ФОРМУЛЫ

- 1) $y = x + 3$ 2) $y = 3$ 3) $y = 3x$

В таблице под каждой буквой укажите соответствующий номер

Ответ:

А	Б	В

12. Выписаны первые три члена арифметической прогрессии 20; 13; 6; ... Найдите 7-й член этой прогрессии.

Ответ: _____

13. Упростите выражение $(7b + 8)(8b + 7) - 8b(7b + 8)$ и найдите его значение при $b = 5,6$.

Ответ: _____

14. Длину окружности l можно вычислить по формуле $l = 2\pi R$, где R — радиус окружности (в метрах). Пользуясь этой формулой, найдите радиус окружности, если её длина равна 72 м. (Считать $\pi = 3$).

Ответ: _____

15. Укажите неравенство, которое **не имеет** решений.

- 1) $x^2 + 6x - 51 > 0$ 2) $x^2 + 6x - 51 < 0$
 3) $x^2 + 6x + 51 > 0$ 4) $x^2 + 6x + 51 < 0$

Ответ: _____

16. Точка D на стороне AB треугольника ABC выбрана так, что $AD = AC$. Известно, что $\angle CAB = 9^\circ$ и $\angle ACB = 150^\circ$. Найдите угол DCB . Ответ дайте в градусах.

Ответ: _____

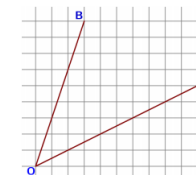
17. Радиус круга равен 2. Найдите его площадь, деленную на π .

Ответ: _____

18. Периметр треугольника равен 48, одна из сторон равна 18, а радиус вписанной в него окружности равен 3. Найдите площадь этого треугольника.

Ответ: _____

19. Найдите тангенс угла AOB , изображенного на рисунке



Ответ: _____

20. Какие из следующих утверждений **верны**?

- 1) У равностороннего треугольника три оси симметрии.
 2) Если при пересечении двух прямых третьей прямой накрест лежащие углы равны, то прямые параллельны.
 3) Смежные углы всегда равны.

Ответ: _____

Не забудьте перенести в бланк ответов №1 в соответствии с инструкцией по выполнению работы

Часть 2

Для выполнения задания 21-26 используйте БЛАНК ОТВЕТОВ №2. Сначала укажите номер задания, а затем запишите его решение и ответ. Пишите чётко и разборчиво

Модуль «Алгебра»

21. Решите неравенство $x^4 - 5x^2 + 4 < 0$
22. Первый насос наполняет бак за 20 минут, второй — за 30 минут, а третий — за 1 час. За сколько минут наполнят бак три насоса, работая одновременно?
23. Постройте график функции $y = f(x)$, где

$$f(x) = \begin{cases} -|x|, & \text{если } |x| \leq 2 \\ x^2 - 6, & \text{если } |x| > 2. \end{cases}$$

При каких значениях x значения функции $y = f(x)$ неотрицательны?

Модуль «Геометрия»

24. Окружность, вписанная в треугольник ABC , касается его сторон в точках M , K и P . Найдите углы треугольника ABC , если углы треугольника MKP равны 49° , 69° и 62° .
25. Дан правильный шестиугольник. Докажите, что если последовательно соединить отрезками середины его сторон, то получится правильный шестиугольник.
26. В треугольнике ABC известны длины сторон $AB = 84$, $AC = 98$, точка O — центр окружности, описанной около треугольника ABC . Прямая BD , перпендикулярная прямой AO , пересекает сторону AC в точке D . Найдите CD .

ОТВЕТЫ К ТРЕНИРОВОЧНОМУ ВАРИАНТУ 10

1	1
2	1,55
3	1,04
4	8060
5	12
6	4,4
7	4
8	15
9	-1,2
10	0,2
11	123
12	-22
13	330,4
14	12
15	4
16	64,5
17	4
18	72
19	1
20	12

21	$(-2; -1) \cup (1; 2)$.
22	10.
23	$(-\infty; -\sqrt{6}] \cup \{0\} \cup [\sqrt{6}; \infty)$.
24	$82^\circ, 42^\circ, 56^\circ$.
26	26.